

PYTANIA – KARTA ROBOCZO-TERENOWA

1. Stań przodem do Schroniska Młodzieżowego i budynku Publicznego Przedszkola w Górze św. Anny.
Naszkicuj wygląd okna dachowego przedszkola.

Odpowiedz na pytanie: **Czy w Górze św. Anny w 1971 roku istniała szkoła podstawowa?** _____

2. Na skrzyżowaniu dróg, w tzw. trójkącie stoi drzewo. **Jaki to gatunek?**

3. Odcisnij wzór punktu Orienteringu Gminy Leśnica nr 71 (gdziekolwiek na tej karcie), a w kartę odpowiedzi wrysuj jego wzór.



4. Wymień **gada** widocznego na tablicy Zadrzewienia Śródpolne:

5. Stojąc tyłem do tablicy, widzisz budynek dawnej stodoły, której ściana zarasta bluszczem. Przyjrzyj się i **napisz ile sztuk bluszczy wyrasta z ziemi i pnie się wyżej?** Odp. _____

6. Podejdź do drzewa stojącego po prawej stronie od tablicy poświęconej naturalnemu odnowieniu buka i **zmiierz jego obwód** (obwód mierzymy na wysokości ok. 1,30 od ziemi). Wpisz wynik: _____

7. Na tylnej ścianie kościoła w Żyrowej umieszczona jest figura św. Jana Nepomucena.

Wymień przynajmniej 4 elementy znajdującego się pod figurą herbu:

8. Przyjrzyj się korze najgrubszych drzew stojących naprzeciwko budynku przedszkola w Żyrowej.

Porównaj ją z korą w załącznikach i wpisz **jakie to drzewo:** _____

9. W którą stronę wygina się dąb stojący na skrzyżowaniu dróg z żółtym znacznikiem ścieżki edukacyjnej?

a) na wschód b) na zachód c) na północ d) na południe

10. Po lewej stronie od drogi leżą powalone dwa drzewa, jedno na drugim.

Odpowiedz na pytania:

- 1) Drzewa te to **wiatrowały** (wywrócone z korzeniami) czy **wiatrołomy** (złamane wcześniej i wywrócone)?

Odp. _____

- 2) **Jakie drzewo leży na dole?** Do jego określenia możesz posłużyć się kartą z pędami drzew z załącznika.

- 3) **Jakie drzewo leży na górze?** Wykorzystaj kartę z szyszkami drzew. _____

- 4) **Na którym z tych drzew** zobaczyć można takie oto piękne chodniki owadzie pewnego chrząszcza z rodziny kornikowatych? _____



11. Pytania dotyczą treści tablicy pt. Kamieniołom „Amfiteatr”.

W której części tej warstwy terebratulowej (a, b czy c) znajdziemy skamieniałe fragmenty szkieletów liliowców?

Odp. _____

Załącznik – szyszki drzew

SOSNA



ŚWIERK



JODŁA



MODRZEW

Załącznik – pędy drzew

BUK



KLON



JESION



WIAZ



DĄB



KASZTANOWIEC



BEZ CZARNY



LIPA



GRAB



Załącznik – kora drzew



OŚWIADCZENIA I ZGODY UCZESTNIKA KONKURS „FERIE Z PARKAMI”

- I. Ja niżej podpisany _____
(imię i nazwisko)
Miejscowość zamieszkania: _____, numer telefonu _____
oświadczam, że **zapoznałem się z Regulaminem** Akcji i akceptuję jego warunki.
- II. Wyrażam zgodę na **przetwarzanie przez Organizatora Akcji moich danych osobowych**, podanych w pkt I w celu przeprowadzenia Akcji. Jednocześnie oświadczam, że jestem świadomy dobrowolności ich podania oraz że zapoznałem się Regulaminem Akcji, zawartą w nim klauzulą informacyjną oraz jestem świadomy przysługującego mi prawa wglądu do podanych danych oraz możliwości ich poprawiania.

Miejscowość i data

Czytelny podpis Uczestnika




ODPOWIEDZI

CZĘŚĆ FILMOWA (do wykonania razem z zadaniami terenowymi)

(Obejrzyj film na YOU TUBE <https://www.youtube.com/watch?v=JV7XldG-84M&t=66s> - odpowiedz na pytania i wykonaj zadania)

1. Na jaką wysokość ponad otaczające go obszary (Niziny Opolskiej) wznosi się Grzbiet Chetmu?
Odp.
2. Wymień przynajmniej jeden przykład formy krasowej z wymienionych w filmie:
Odp.
3. Najbardziej wilgotny typ lasy bukowego to buczyna
4. W jakiej miejscowości nieopodal Góry św. Anny znajduje się drewniany kościół?
Odp.
5. W jakich wojnach mieli brać udział ojciec i dwóch synów, fundatorzy kapliczki „Trzech Braci”?
Odp.

CZĘŚĆ TERENOWA

1. Odp.: _____ oraz 
 2. Drzewo: _____
 3. Gad: _____
 4. Wzór punktu 71:  
 5. Ilość bluszczy: _____
 6. Obwód drzewa w cm: _____
 7. 4 elementy herbu: _____
- szkic okna dachowego
8. Drzewo: _____
 9. W którą stronę? _____
 - 10.1 _____
 - 10.2 _____
 - 10.3 _____
 - 10.4 _____
 11. W części _____ warstwy terebratulowej.

Wysłać do **22 lutego 2026** na e-mail: konkurs.zopk@gmail.com lub do **28 lutego 2026** pocztą tradycyjną na adres: ZOPK Stobrawski PK, Ładza, ul. Reymonta 3, 46-034 Pokój - [z dopiskiem: FERIE Z PARKAMI - GSA](#)