

ZGODA OPIEKUNA PRAWNEGO /RODZICA NA UDZIAŁ DZIECKA/DZIECI W KONKURSIE „FERIE Z PARKAMI”

I. Wyrażam zgodę na udział niżej wymienionych dzieci:

Lp.	Imię i nazwisko dziecka	Wiek	Miejsce zamieszkania	Numer telefonu do rodzica/opiekuna
1.				
2.				
3.				
4.				

w konkursie „Ferie z Parkami” zgodnie z Regulaminem konkursu, z którym zapoznałem się i akceptuję jego warunki.

II. Wyrażam zgodę na **przetwarzanie przez Organizatora konkursu moich danych osobowych oraz danych osobowych moich dzieci**, podanych w pkt I w celu przeprowadzenia konkursu. Jednocześnie oświadczam, że jestem świadomy dobrowolności ich podania oraz że zapoznałem się Regulaminem konkursu, zawartą w nim klauzulą informacyjną oraz jestem świadomy przysługującego mi prawa wglądu do podanych danych oraz możliwości ich poprawiania.

Miejscowość i data_____

Czytelny podpis opiekuna prawnego/rodzica uczestnika**ODPOWIEDZI****CZĘŚĆ FILMOWA (do wykonania razem z zadaniami terenowymi)**(Obejrzyj film na YOU TUBE https://www.youtube.com/watch?v=u_kkheaPmLE i wykonaj zadania)**1. Dokończ zdanie.**

Prudnik i Głuchołazy jako pierwsze w Polsce miały oznakowane szlaki turystyczne.

Odp. Było ich _____ i powstały w roku _____

2. Jakie rodzaje formacji geologicznych można znaleźć w Górach Opawskich? (Wymień trzy)

- _____
- _____
- _____

3. Uzupełnij zdanie.

Góry Opawskie reprezentują dwa piętra klimatyczno-roślinne: piętro pogórza i regiel dolny. Na tej wysokości dominującymi zbiorowiskami roślinnymi są: łągi, grądy, _____ i dąbrowy.

4. Podkreśl słowa tak, aby zdanie było prawdziwe.

Wawrzynek wilczełyko to niezwykły krzew stanowiący symbol wiosny, którego *liście/ kwiaty/ owoce* koloru *żółtego/zielonego/różowego* pojawiają się jeszcze zanim wykształcą się *pączki/owoce/liście*.

5. Uzupełnij zdanie.

Miasto Głuchołazy na przełomie XIX i XX w. funkcjonowało jako uzdrowisko czego świadectwem jest, istniejący do dzisiaj _____ .

Prosimy odpowiedzi na pytania z części terenowej przepisać do tabeli z ODPOWIEDZIAMI i str. 1-2 wystać:

➤ Do **28.02.2025** na e-mail: **konkurs.zopk@gmail.com** lub

➤ do **04.03.2025** pocztą tradycyjną na adres: **ZOPK Stobrawski PK, Ładza, ul. Reymonta 3, 46-034 Pokój**

z dopiskiem: „**FERIE Z PARKAMI**”

CZĘŚĆ TERENOWA (do wykonania jedna lub dwie trasy, 10 zadań; opis tras i zadań w dalszej części załącznika)

Trasa I - Ścieżka przyrodniczo-dydaktyczna/niebieski szlak turystyczny „z Jarnońtówka przez Karolinki, Żabie Oczko i Olszak” do Pokrzywnej

1.
2.
3.
4.
5.
6.
7.
8.
9.
10.

Trasa II - Żółty szlak turystyczny z Jarnońtówka przez masyw Biskupiej Kopy do Pokrzywnej

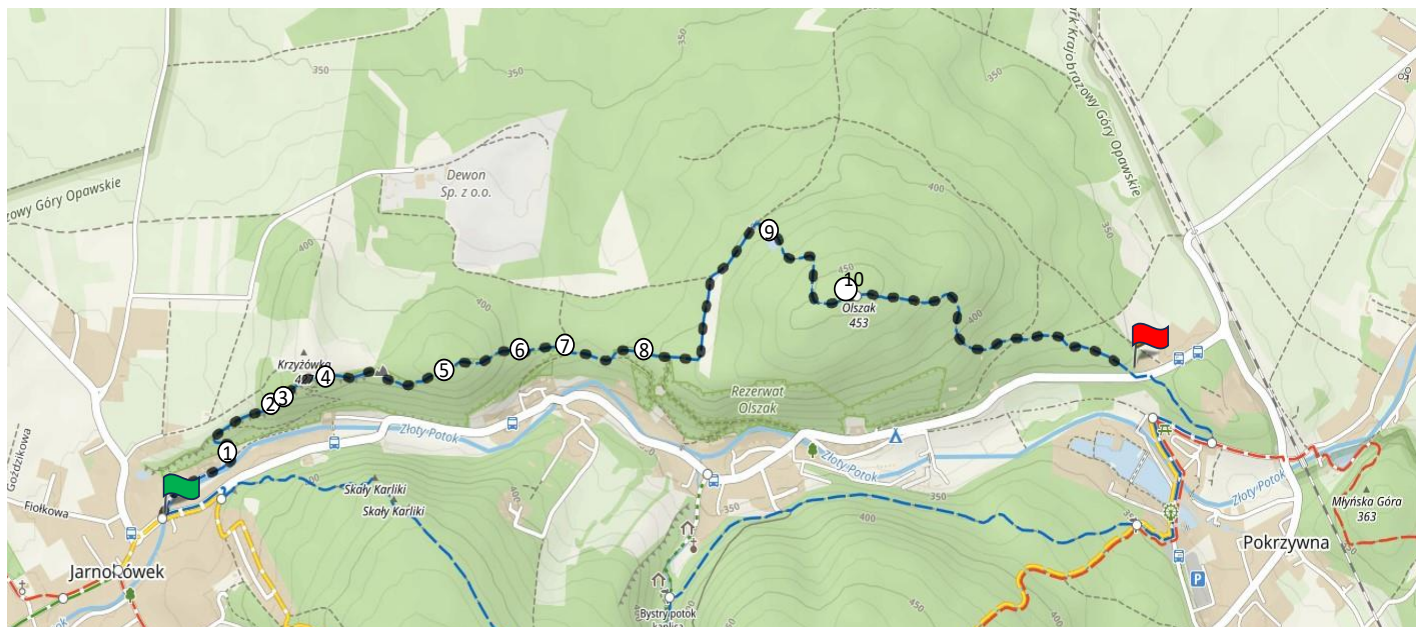
1.
2.
3.
4.
5.
6.
7.
8.
9.
10.

Prosimy odpowiedzi na pytania z części terenowej przepisać do tabeli z ODPOWIEDZIAMI i str. 1-2 wysłać:

- Do **28.02.2025** na e-mail: konkurs.zopk@gmail.com lub
- do **04.03.2025** pocztą tradycyjną na adres: **ZOPK Stobrawski PK, Ładza, ul. Reymonta 3, 46-034 Pokój**
z dopiskiem: „**FERIE Z PARKAMI**”

TRASA I - JARNOŁTÓWEK - OLSZAK

Trasa I znajduje się na niebieskim szlaku turystycznym i ciągnie się z Jarnołówka do rezerwatu „Olszak”. Idziemy ścieżką przyrodniczo - dydaktyczną, która przebiega równoległe wraz z niebieskim szlakiem turystycznym, wzdłuż wychodni skalnych na „Karolinkach” w kierunku „Żabiego Oczka”, a stamtąd na szczyt „Olszaka”. Schodząc ze szczytu, kierujemy się do drogi asfaltowej w Pokrzywniej, nieopodal restauracji Dębowe Wzgórze.



Legenda



Początek trasy
Koniec trasy



Punkt docelowy z zadaniami
Punkty:
1 - tablica edukacyjna „ Rezerwat przyrody OLSZAK
2 - gład
3 - formacja skalna
4 - tablica „Przystanek nr 2”
5 - „Kazalnica”
6 - powalone drzewo
7 - tablica „Karolinki”
8 - tablica „PKGO Rezerwat Olszak”
9 - tablica „Żabie Oczko”
10 – szczyt „Olszak”

Przebieg trasy: Trasę rozpoczynamy na moście tuż obok restauracji Ziemiaczana Kopa w Jarnołówku. Idąc wzdłuż rzeki „Złoty Potok” w kierunku „Karolinek”, wchodzimy do lasu. Przez całą wyznaczoną trasę poruszamy się szlakiem niebieskim i zieloną ścieżką przyrodniczo -dydaktyczną. **Długość trasy: ok. 5 kilometrów, szacowany czas przejścia 2 godziny.**

Prosimy odpowiedzi na pytania z części terenowej przepisać do tabeli z ODPOWIEDZIAMI i str. 1-2 wysłać:

- Do **28.02.2025** na e-mail: konkurs.zopk@gmail.com lub
- do **04.03.2025** pocztą tradycyjną na adres: **ZOPK Stobrawski PK, Ładza, ul. Reymonta 3, 46-034 Pokój** z dopiskiem: **„FERIE Z PARKAMI**

Zadania na trasie

Punkt docelowy nr 1 - znajduje się tuż przy wejściu do lasu, gdzie umieszczona jest **tablica edukacyjna o nazwie „Rezerwat Przyrody OLSZAK”**

Zadanie 1: Na tablicy edukacyjnej ukazane są zdjęcia czterech różnych gatunków - przyjrzyj się wyglądowi tego, który znajduje się na górze po prawej stronie. Jakie ma kolory ten okaz? Wymień trzy jego kolory.

Punkt docelowy nr 2 – głaz - poruszając się dalej wzdłuż drogi (wytyczonym szlakiem) odnajdujemy duży głaz na środku drogi z namalowanym symbolem – to symbol ścieżki przyrodniczo-dydaktycznej Parku Krajobrazowego „Góry Opawskie”).

Zadanie 2: Wykorzystując rozmiar swojego buta lub buta innego uczestnika swojej grupy, zmierz w połowie głazu jego wysokość a następnie całą szerokość tego głazu.

Punkt docelowy nr 3 – formacja skalna - Tuż obok głazu z poprzedniego punktu nr 2, znajduje się wyjątkowo piękna formacja skalna, na której namalowany został mały biało- niebieski znak.

Zadanie 3: Jaki ma kształt ten znak?

Punkt docelowy nr 4 – w którym znajduje się **tablica edukacyjna o nazwie „Przystanek nr 2”**

Zadanie 4: Zapoznaj się z tekstem na Tablicy edukacyjnej „Przystanek nr 2”, w którym wspomniano o obcym gatunku grzyba - okratku australijskim. Cechuje się on niezwykle nieprzyjemnym zapachem. Z czym porównywany jest jego wygląd zewnętrzny?

Punkt docelowy nr 5 - wychodnia skalna o nazwie „Kazalnica”

Zadanie 5: Docierając do skały o nazwie Kazalnica, stań naprzeciwko żółtej tablicy z jej nazwą i odwróć się. Zwróć uwagę na pierwsze drzewo na swojej drodze. Jest nim drzewo iglaste czy liściaste?

Punkt docelowy nr 6 – zwalone drzewo - Idąc cały czas wyznaczonym szlakiem, natrafisz na zwalone drzewo, którego środek został wycięty, aby umożliwić ruch turystyczny i bezpieczne przejście trasą.

Zadanie 6: Ponownie wykorzystując rozmiar swojego buta lub buta innego uczestnika swojej grupy, zmierz odległość pomiędzy dwiema kłodami leżącymi przy ścieżce (będzie to długość wyciętego kawałka drzewa)

Prosimy odpowiedzi na pytania z części terenowej przepisać do tabeli z ODPOWIEDZIAMI i str. 1-2 wysłać:

- Do **28.02.2025** na e-mail: **konkurs.zopk@gmail.com** lub
- do **04.03.2025** pocztą tradycyjną na adres: **ZOPK Stobrawski PK, Ładza, ul. Reymonta 3, 46-034 Pokój** z dopiskiem: **„FERIE Z PARKAMI**

Punkt docelowy nr 7 – tablica „Karolinki” - znajduje się na rozstaju dróg; jest to biało- czerwona tablica z napisem KAROLINKI i dwoma oznaczeniami szlaków.

Zadanie 7: Zwróć uwagę na kolory liter w nazwie KAROLINKI. Patrząc od strony lewej do prawej, zapisz te kolory.

Punkt docelowy nr 8 – tablica edukacyjna „PKGO Rezerwat Olszak” z wymienionymi gatunkami: buławnik mieczolistny, lilia złotogłów, konwalia majowa i zanokcica północna.

Zadanie 8: Zapoznaj się z tekstem na Tablicy edukacyjnej, bazując na niej, dokończ zdanie. “Fitosaprofagi to zwierzęta odżywiające się ...”

Punkt docelowy nr 9 – tablica edukacyjna „Żabie Oczko” - Podążając dalej niebieskim szlakiem, kieruj się w stronę Olszaka. Zatrzymaj się przy tablicy edukacyjnej Przystanek nr 1 - Żabie Oczko.

Zadanie 9: Zapoznaj się z treścią tablicy. Odpowiedz na pytanie - jakie zwierzę określone jest mianem znakomitego pływaka? Odpowiedź znajdziesz w tekście.

Punkt docelowy nr 10 – szczyt „Olszak”

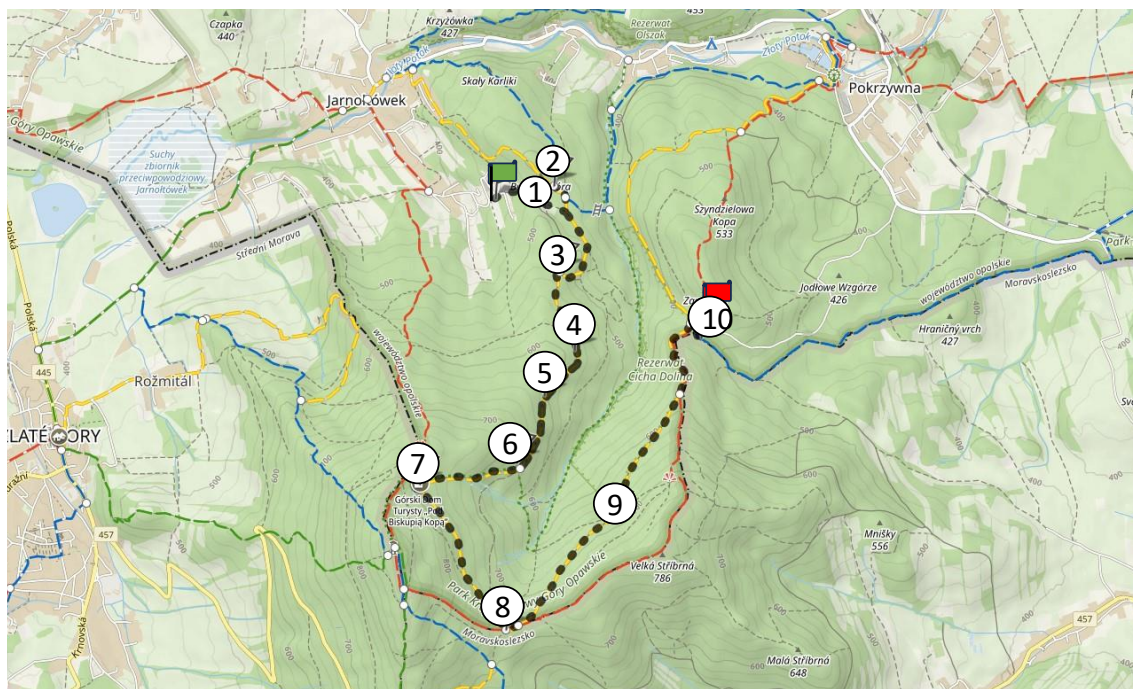
Zadanie 10: Na szczycie „Olszak” stań pod drzewem, na którym umieszczona jest tabliczka z jego nazwą . Czy tabliczka ze znaczkiem Korona PK Góry Opawskie znajduje się pod czy nad żółtą tabliczką z napisem szczytu?

KONIEC ZADAŃ NA TRASIE I


Prosimy odpowiedzi na pytania z części terenowej przepisać do tabeli z ODPOWIEDZIAMI i str. 1-2 wysłać:


- Do 28.02.2025 na e-mail: konkurs.zopk@gmail.com lub
- do 04.03.2025 pocztą tradycyjną na adres: ZOPK Stobrawski PK, Ładza, ul. Reymonta 3, 46-034 Pokój z dopiskiem: „FERIE Z PARKAMI


TRASA II – Masyw Biskupiej Kopy



Legenda

 początek trasy

 koniec trasy

 Punkt docelowy z zadaniami:

1 - leśna polana za Ziemowitem (Przełęcz pod Pasterką); 2 - „Piekiełko”; 3 - tabliczka „Droga Amalii nad Anusią”;
 4 - kierunkowskaz „Schronisko” przy drodze Amalii; 5 - wiatrochron przy drodze Amalii; 6 - Plac Paula Langego (kapliczka);
 7 - schronisko „Pod Biskupią Kopą”; 8 - Przełęcz pod Kopą (Mokra); 9 - Plac Konrada Habla; 10 - „Grób Czarownicy” pod Zamkową Górą

Przebieg trasy: Zabawę zaczynamy na polance leśnej- na Przełęczy pod Pasterką tuż za Ziemowitem (Ośrodek Konferencyjno -Wypoczynkowy) w Jarnołówku, dalej idziemy do Piekiełka, stamtąd wracamy na drogę Amalii. Po drodze mijamy drewniany kierunkowskaz z napisem „schronisko” oraz drewnianą wiatę (wiatrochron dla turystów). Dochodzimy do kapliczki na Placu Paula Langego, a następnie do schroniska „Pod Biskupią Kopą”. Stamtąd schodzimy żółtym szlakiem do Przełęczy pod Kopą (Mokra) i dalej idziemy przez plac Habla. Docierając do Przełęczy pod Zamkową Górą na moment schodzimy na niebieski szlak aby dojść do „Grobu Czarownicy – 500 m n.p.m. Stamtąd z powrotem wracamy do drogi gdzie dochodzą trzy szlaki żółty, czerwony i niebieski – na Przełęczy pod Zamkową Górą. W tym miejscu kończymy naszą zabawę. Zostawiamy Państwu wybór szlaku turystycznego, którym chcielibyście zejść do Pokrzywnej. 😊

Długość trasy: ok. 10 km, szacowany czas przejścia 4-5 godz.

Trasę rozpoczynamy na polance leśnej za „Ziemowitem” przy szutrowej drodze leśnej prowadzącej do schroniska „Pod Biskupią Kopą”. Do Ziemowitu można dojechać samochodem od strony Jarnołówka. Najbliżej położony parking od miejsca, w którym zaczynamy zabawę, znajduje się na polance tuż przy ośrodku „Ziemowit”. Dalej można iść tylko pieszo.

Prosimy odpowiedzi na pytania z części terenowej przepisać do tabeli z ODPOWIEDZIAMI i str. 1-2 wystać:

➤ Do 28.02.2025 na e-mail: konkurs.zopk@gmail.com lub

➤ do 04.03.2025 pocztą tradycyjną na adres: ZOPK Stobrawski PK, Ładza, ul. Reymonta 3, 46-034 Pokój z dopiskiem: „FERIE Z PARKAMI

Poniżej opisano punkty docelowe (miejsca), w których należy wykonać zadania.

Zadania na trasie

Punkt docelowy nr 1 - znajduje się na polanie leśnej za „Zimowitem”, nieopodal żółtego szlaku”. Tu znajduje się drewniana wiata (wiatrochron), za którą rosną brzozy.

Zadanie 1: Policz, ile brzoź rośnie na polance za drewnianą wiatą?

Punkt docelowy nr 2 – Rozdroże pod „Piekietkiem”. Schodząc z polanki, kieruj się w stronę „Piekietka” nieczynnego już kamieniołomu łupków fyllitowych. Pod tabliczką z nazwą wyrobiska umieszczoną na drzewie, znajdują się trzy namalowane symbole/oznaczenia turystyczne. Dwa z nich to oznaczenia szlaków turystycznych (niebieskiego i żółtego).

Zadanie 2: Nad znakami „szlak niebieski” i „szlak żółty”, namalowanymi na drzewie pod tabliczką z nazwą „Piekietko”, namalowano trzeci znak w kolorze białym. Co to za znak?

Punkt docelowy nr 3 – tabliczka z nazwą „Droga Amalii nad Anusią”. Z „Piekietka” musimy cofnąć się z powrotem do drogi „Droga Amalii”, biegnącej w stronę schroniska PTTK. To szeroka dojazdowa droga leśna, przeznaczona m.in. dla pojazdów służby leśnej i parkowej, jak również do celów turystyki pieszej. Na dalszym jej odcinku tuż przy drodze, umieszczona została żółta tabliczka z nazwą tego miejsca „Droga Amalii nad Anusią -500 m”.

Zadanie 3: Stań przed drzewem i spójrz w górę. W odległości ok. 1,5 metra nad tabliczką przymocowano do drzewa konstrukcję wykonaną z drewna. Co to jest i dla kogo jest przeznaczona?

Punkt docelowy nr 4 – drewniany kierunkowskaz „Schronisko”. Idąc dalej żółtym szlakiem, przy samej drodze znajdziesz przymocowany do drzewa drewniany kierunkowskaz w kształcie strzałki z napisem SCHRONISKO, wskazujący kierunek dojścia do obiektu.

Zadanie 4: Jaki znak wypalony jest przed napisem „schronisko”?

Punkt docelowy nr 5 – wiatrochron (miejsce odpoczynku dla turystów) przy drodze Amalii (znajdziesz go na żółtym szlaku, idąc w stronę schroniska).

Zadanie 5: Z ilu desek zbudowany jest dach wiatrochronu?

Punkt docelowy nr 6 – Tablica informacyjna PTTK niedaleko kapliczki na Placu Paula Langego. Jest to kolorowa tablica „Bądź bezpieczny na ścieżkach turystycznych w Górach Opawskich” umieszczona na drewnianym słupie pod tabliczką „Ścieżka Langego 635 m”. Zawarto tu ważne informacje o zachowaniu bezpieczeństwa w górach.

Zadanie 6 Na dole tej tablicy, zamieszczono „emotkę” (minkę), obok której napisano, jak mamy zachowywać się w stosunku do innych osób spotykanych na szlaku. Zgodnie z podaną informacją na tablicy odpowiedz na pytanie: Co należy wówczas robić?

Prosimy odpowiedzi na pytania z części terenowej przepisać do tabeli z ODPOWIEDZIAMI i str. 1-2 wysłać:

- Do 28.02.2025 na e-mail: konkurs.zopk@gmail.com lub
- do 04.03.2025 pocztą tradycyjną na adres: ZOPK Stobrawski PK, Ładza, ul. Reymonta 3, 46-034 Pokój z dopiskiem: „FERIE Z PARKAMI

Punkt docelowy nr 7 – tablica umieszczona na zewnętrznej ścianie budynku schroniska „Pod Biskupią Kopą”

Zadanie 7: Jaka odległość (podana w kilometrach) widnieje na tablicy z napisem: „Główny Szlak Sudecki im. Mieczysława Orłowicza”? Podaj tę liczbę.

Punkt docelowy nr 8 – drogowskazy (przytwierdzone do drzewa (brzozy), znajdujące się na Przełęczy pod Kopą (Mokra).

Zadanie 8: Podaj łączną liczbę wszystkich tabliczek, umieszczonych na jednym drzewie? (zarówno drogowskazów jak i innych tabliczek przytwierdzonych tam).

Punkt docelowy nr 9 – tablica na Placu Habla. Na tablicy „Plac Konrada Habla” umieszczono informacje oraz 2 zdjęcia. Przy zdjęciu rodziny Hablów widnieje napis, kiedy zostało to zdjęcie zrobione.

Zadanie 9: W jakich latach zostało zrobione to zdjęcie?

Punkt docelowy nr 10 – „Grób Czarownicy” pod Zamkową Górą” . Na Przełęczy pod Zamkową Górą schodzą się trzy szlaki turystyczne: żółty, czerwony i niebieski. Należy zejść na szlak niebieski, iść dalej wzdłuż granicy polsko – czeskiej, aż do miejsca gdzie według legendy znajduje się kwarcytowy kamień uważany za grób czarownicy. Obok niego postawiona jest Tablica PTTK. W tym miejscu przebiega granica trzech miejscowości: Pokrzywnej (Pol.), Jarnołtówka (Pol.) i Janova (Cz.).

Zadanie 10: Zapoznaj się z treścią zamieszczoną na tablicy i odpowiedz na pytanie: Co postawiono w tym miejscu dla zaznaczenia granicy trzech miejscowości?

KONIEC ZADAŃ NA TRASIE II

Prosimy odpowiedzi na pytania z części terenowej przepisać do tabeli z ODPOWIEDZIAMI i str. 1-2 wysłać:

- Do **28.02.2025** na e-mail: konkurs.zopk@gmail.com lub
- do **04.03.2025** pocztą tradycyjną na adres: **ZOPK Stobrawski PK, Ładza, ul. Reymonta 3, 46-034 Pokój** z dopiskiem: „**FERIE Z PARKAMI**”