

**OŚWIADCZENIA I ZGODY UCZESTNIKA
KONKURS „FERIE Z PARKAMI”**

- I. Ja niżej podpisany _____
(imię i nazwisko)
Miejsce zamieszkania: _____, numer telefonu _____
oświadczam, że **zapoznałem się z Regulaminem** konkursu i akceptuję jego warunki.
- II. Wyrażam zgodę na **przetwarzanie przez Organizatora konkursu moich danych osobowych**, podanych w pkt I w celu przeprowadzenia konkursu. Jednocześnie oświadczam, że jestem świadomy dobrowolności ich podania oraz że zapoznałem się Regulaminem konkursu, zawartą w nim klauzulą informacyjną oraz jestem świadomy przysługującego mi prawa wglądu do podanych danych oraz możliwości ich poprawiania.

Miejscowość i data

Czytelny podpis Uczestnika

Odpowiedzi na pytania z części terenowej prosimy przepisać do tabeli z **ODPOWIEDZIAMI** znajdujące się na następnej stronie i str. 1-2 wysłać:

- Do **28.02.2025** na e-mail: **konkurs.zopk@gmail.com** lub
- do **04.03.2025** pocztą tradycyjną na adres: **ZOPK Stobrawski PK, Ładza, ul. Reymonta 3, 46-034 Pokój** z dopiskiem: „**FERIE Z PARKAMI**”

KARTA ODPOWIEDZI

CZĘŚĆ FILMOWA (do wykonania razem z zadaniami terenowymi)

(Obejrzyj film na YOU TUBE <https://www.youtube.com/watch?v=JV7XldG-84M&t=66s> - odpowiedz na pytania i wykonaj zadania)

1. Na jaką wysokość ponad otaczające go obszary (Niziny Opolskiej) wznosi się Grzbiet Chełmu?

Odp.

2. Od ilu lat Góra św. Anny (jak i większość historycznie rozumianego Śląska) leży w granicach Polski?

Odp.

3. Najbardziej wilgotny typ lasy bukowego to buczyna

4. W jakiej miejscowości nieopodal Góry św. Anny znajduje się drewniany kościół?

Odp.

5. W jakich wojnach mieli brać udział ojciec i dwóch synów, fundatorzy kapliczki „Trzech Braci”?

Odp.

CZĘŚĆ TERENOWA (do wykonania jedna lub dwie trasy; opis tras i zadań w dalszej części załącznika)

Trasa I (Kalwaria Annogórska)

1.
2.
3.
4.
5.
6.

Trasa II (las)

1.
2.
3.
4.
5.
6.
7.
8.

9.



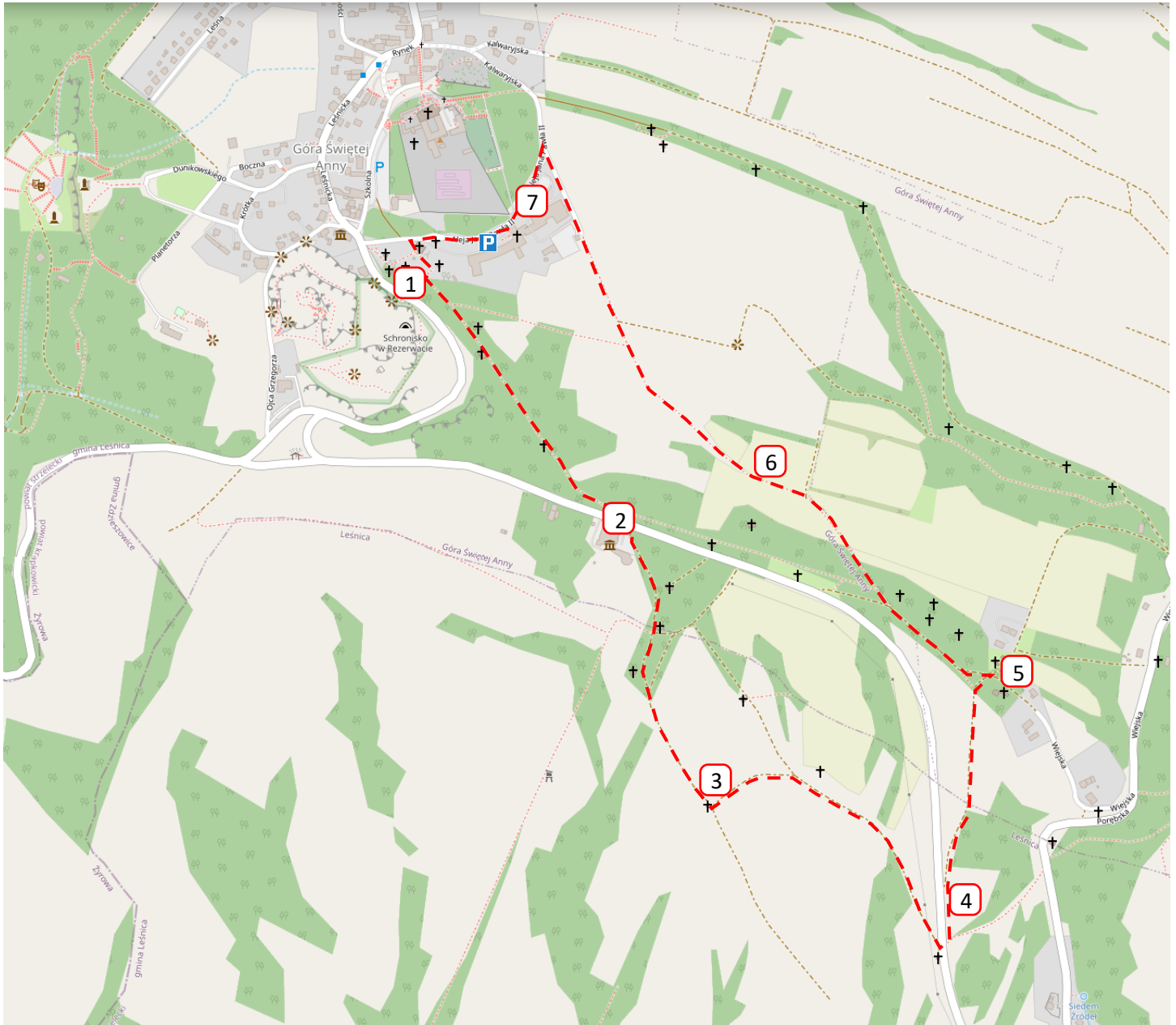
10.

ZADANIA W TERENIE TRASA I – KALWARIA ANNOGÓRSKA

Przebieg trasy: Kalwaria Annogórska (szczegółowy opis poniżej)

Parking przed Domem Pielgrzyma

Długość pętli: niecałe 4 km



Przebieg trasy:

Dom Pielgrzyma (parking) – Kościół św. Krzyża - Kaplica Grób Pana Jezusa – Kaplica III Upadek – Kaplica Płaczące Niewiasty – Muzeum Czynu Powstańczego – Kaplica Domek NMP – Kaplica II stacja pogrzebowa – Kaplica III st. pogrzebowa – Kaplica IV st. pogrzebowa – Kaplica Ratusz Piłata i Gradusy – (kilka mniejszych stacji) – Kaplica Szymon Cyrenejczyk i wyjście z trasy kalwaryjskiej na pola w górę w kierunku Domu Pielgrzyma, cały czas główną ścieżką, aż do Domu Pielgrzyma – wejście na ulicę i skręt w lewo – przejście wzdłuż płotu i powrót na parking.

Zadanie 1 - Przy kaplicy Grób Pana Jezusa stoi drzewo o charakterystycznym wyglądzie. Stań tak by mieć je po swojej prawej stronie i schodząc w dół zgodnie z trasą, policz wszystkie stare drzewa rosnące w jednym, tym samym rzędzie co ono, zaczynając liczenie od tego charakterystycznego drzewa aż do ostatniego drzewa przed Kaplicą III Upadek.

Ile naliczyłeś drzew? _____



Zadanie 2 - Znajdź znak określający miejsce zbiórki do ewakuacji i podejź do niego. Za nim rośnie niewielkie drzewo. Porównaj jego pędy z pędami z załącznika – **pędy drzew** i wpisz w kartę odpowiedzi jakie to drzewo. To konkretne drzewo to również tzw. drzewo „kardynalskie”. Wpisz w kartę **jakiej osoby dotyczy, kogo upamiętnia?** _____



Zadanie 3 - Spójrz na podstawy pni tutejszych drzew – przyjrzyj się pędom z nich wyrastających (gałęzie korony są zbyt wysoko). **Porównaj je z tymi w załączniku – pędy drzew i wpisz co to za drzewa.**
Odp. _____

Zadanie 4 - Wzdłuż tej ulicy zostały posadzone nowe czereśnie w ramach akcji „Ratujemy Aleje Czereśniowe”. Gdy przejdziecie na drugą stronę drogi, na krótkim odcinku trasy znajdziecie trzy z nich.

Ułóżcie je w prawidłowej kolejności, idąc od kapliczki → do skrzyżowania w pola. Wpisz w kartę numery 1,2,3 w takiej kolejności jaką uzyskasz tutaj:

DRZEWO Wiktorii, Judyty, Dominika i Matiego Nr _____
--

DRZEWO Rodziny P.R.J.N PREISNER Nr _____
--

DRZEWO Wdzięczności dla Państwa Sokołowskich z Szumiradu Nr _____

Zadanie 5

Obejdź na około kaplicę, na której widnieje taka jak obok tablica fundacyjna →
Odpowiedz na pytanie: **Ile okien znajduje się w części „schodowej”** (mocno pochylonej) **tej kaplicy:**



- a) nie ma tam żadnych okien
- b) 4 okna (po 2 okna po obu stronach)
- c) 5 okien (po jednej stronie 2, a po drugiej 3)
- d) 6 okien (po każdej stronie 3 okna)

Zadanie 6 - Po prawej stronie mijasz sad czereśniowy. Jest on ogrodzony:

- a) płotem w całości drewnianym
- b) siatką metalową na słupkach drewnianych
- c) siatką metalową na słupkach metalowych
- d) płotem murowanym

Zadanie 7 - Na płocie Domu Pielgrzyma umieszczone są plansze opisujące walory PK „Góra św. Anny”.

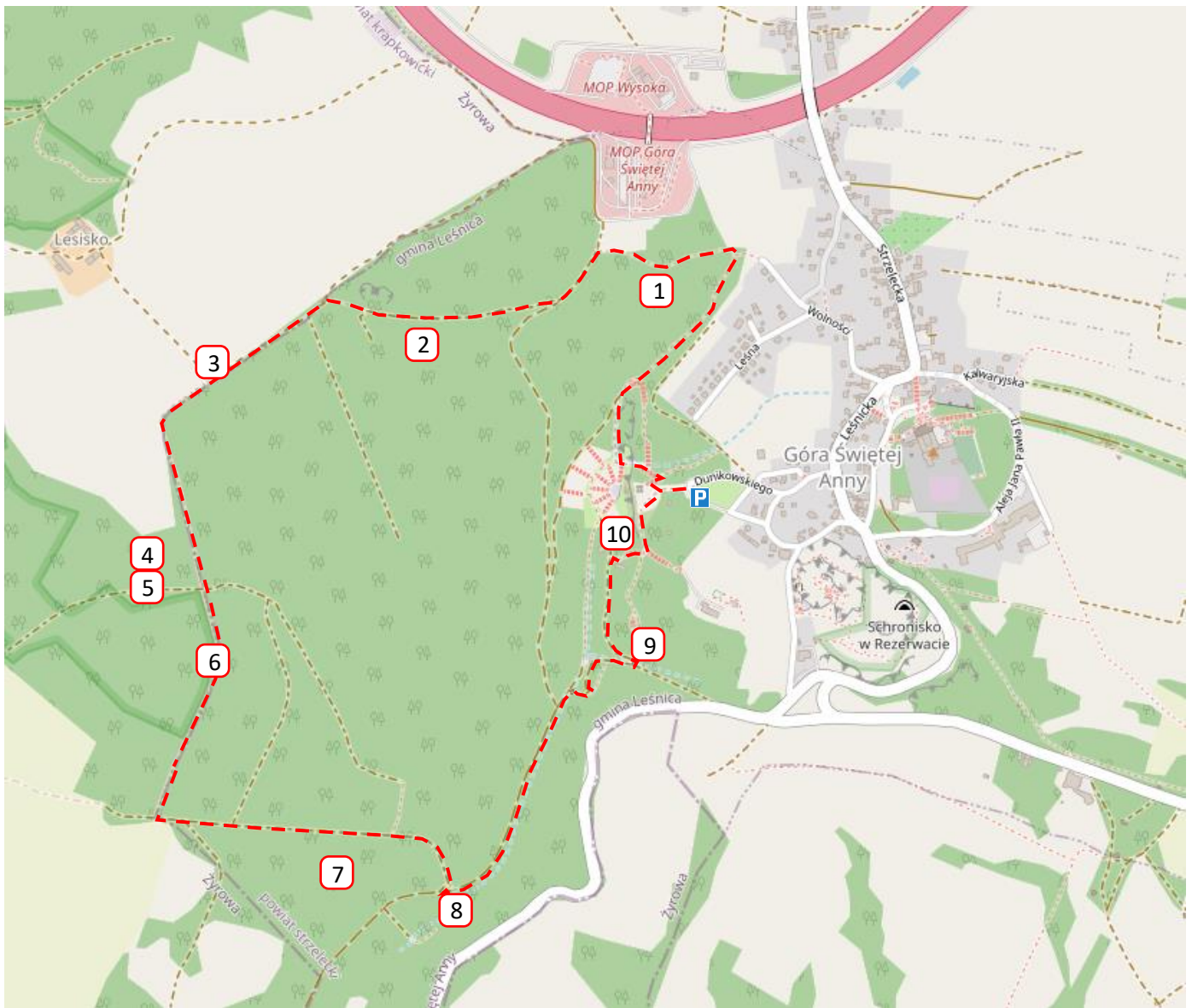
Największe, środkowe zdjęcie na planszy dziewiątej przedstawia:

- a) mopka
- b) motyla
- c) lilię złotogłów
- d) puszczyka

TRASA II

Przebieg trasy: Parking przed Pomnikiem Czynu Powstańczego w Górze św. Anny – Amfiteatr – Rezerwat Lesisko – Pomnik czynu Powstańczego

Długość pętli: ok. 5 km



Trasę rozpoczynamy od zejścia w dół w kierunku Pomnika Czynu Powstańczego i dalej w dół krętymi schodami do amfiteatru skalnego. Stąd (wejście w las schodami po prawej stronie) niebieską ścieżką dydaktyczną udajemy się aż do pkt. 3, rozwiązując po drodze zadania. Od punktu 3 kierujemy się prosto w dół; idziemy cały czas główną ścieżką, aż dojdziemy do skrętu w lewo (na wprost będzie płot, więc trzeba skręcić). Skręcamy w lewo i cały czas prosto (główną ścieżką), aż do pkt. 8. Skręcamy w lewo i wchodzimy na żółtą ścieżkę dydaktyczną i nią kierujemy się w górę aż do pkt. 9, po czym opuszczamy ją skręcając w górę w lewo na czerwoną ścieżkę prowadzącą do amfiteatru. Przed amfiteatrem skręcamy w prawo na schody, a po wejściu na górę, skręcamy w lewo w kierunku Pomnika Czynu Powstańczego i parkingu.

Zadania na trasie II:

Zadanie 1

Tuż za drzewem ze św. Pawłem Apostołem (kto uważny ten znajdzie bez problemu), stoi inne drzewo. Przyjrzyj się jego korze i porównaj z tymi zamieszczonymi na oddzielnej stronie w załączniku pt. *kora drzew*. Do jakiego drzewa pasuje najbardziej? Odp.

Zadanie 2:

Za tablicą *Typy siedliskowe lasu*, lekko z tyłu i na lewo, rośnie drzewo iglaste, ooo tu...
 Być może, jesteś w stanie określić jego gatunek po samym pokroju i wyglądzie korony, ale jeśli nie, to przyjrzyj się znów jego korze, porównaj z innymi i wpisz jakie to drzewo.
 Odp.



Zadanie 3

Niebieska ścieżka skręca w prawo – przyjrzyj się korze drzewa, na którym widnieją oznaczenia ścieżki. Porównaj jego korę z innymi z załącznika pt. *kora drzew* i wpisz w kartę co to za drzewo?
 Odp.

Zadanie 4

Po ponownym wejściu w las spójrz w prawo. Powinna tam jeszcze leżeć długa kłoda (przewrócone drzewo) w głębi lasu. Podejdź do niej, będzie to pierwsza i chyba najdłuższa kłoda z kilku leżących też dalej. Przyjrzyj się jej. **W której części tego drzewa znajdują się chodniki owadzie bruzdkowca zachodniego (chrząszcza, kornika) jak na zdjęciu?**



- a) w dolnej części drzewa, przy odziomku
- b) w środkowej części drzewa, na pniu
- c) w koronie na gałęziach

Zadanie 5

Zaraz za czubkiem naszej kłody stoi drzewo o wyjątkowych pąkach. Jest to nierodzimym (introdukowany) gatunek - częściej spotykany w parkach i ogrodach oraz alejach dojazdowych do posesji (przy drogach).

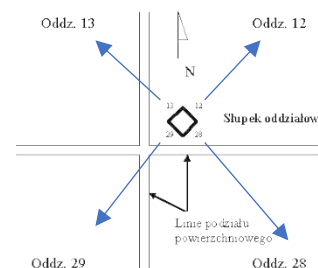
Porównaj jego pędy z tymi z załącznika i wpisz co to za drzewo?

Odp.



Zadanie 6

Znajdź słupek oddziałowy (będzie znajdował się po prawej stronie ścieżki). Obejdź go dookoła. Wiedząc, że cyfra na słupku oznacza numer oddziału i numery te „patrzą” w kierunku oddziału, który oznaczają, odpowiedz na pytanie: **W jakim (między innymi) oddziale położony jest rezerwat przyrody „Lesisko”?** Podaj jego numer. Odp.



Zadanie 7 - W okolicy pkt. 5 stoi drewniana konstrukcja i jest to:

- a) ambona myśliwska
- b) paśnik
- c) wiata turystyczna
- d) tablica edukacyjna

Zadanie 8 - Rozejrzyj się i podaj numer przebiegającej tu drogi pożarowej (dojazdowej).

Odp.

Zadanie 9 - Odbij na kartce punkt orientingu Gminy Lenica nr 77, a następnie wrysuj jego wzór (układ kropek) w pole odpowiedzi w KARCIE ODPOWIEDZI.

Zadanie 10 - Po pierwszych 23 schodach zatrzymaj się, obróć tyłem do ławki i spójrz na drugą stronę ścieżki – na korę rosnących tam najbliższych drzew. Jakie to drzewa? Odp.

A teraz policz resztę schodów i wpisz ilość wszystkich w kartę obok gatunku. Możesz pomylić się o 5 :D.

Liczba schodów.....

Załącznik – pędy drzew

BUK



KLON



JESION



WIAZ



DĄB



KASZTANOWIEC



BEZ CZARNY



LIPA



GRAB



Załącznik – kora drzew

